

※解答はすべて解答用紙に記入しなさい。

1 8つのメモを使用して、ユイトさんとヒナタさんが歴史を学んでいます。メモを見て、あとの問いに答えなさい。

- ① 飛鳥時代のメモ：・現存する世界最古の木造建築物である **I** が建てられた。  
 ・豪族の対立や争いが激しくなるなかで、蘇我氏が勢力を大きく伸ばした。
- ② **A**時代のメモ：・大名を従わせるために、武家諸法度に参勤交代の制度が加えられた。  
 ・全国200以上の大名を親藩・譜代・外様に分けて厳しく支配した。  
 ・武士は、政治を行い、名字を名のり、刀をさすなどの特権が与えられていた。
- ③ **B**時代のメモ：・将軍と御家人の強い結びつきは、御恩と奉公により成り立っていた。  
 ・朝鮮半島を支配した元の要求をはねつけた幕府に対して元軍が、2度にわたり九州北部におしよせた。  
 ・源頼朝の死後、a **その妻が尼となって政治を行った。**
- ④ 縄文時代のメモ：・貝や木の実を集め、動物や魚などを食料にして生活した。  
 ・この時代の代表的な遺跡として、三内丸山遺跡がある。
- ⑤ **C**時代のメモ：・聖武天皇は、仏教の力によって国じゅうが幸せになるように、銅を集めさせて大仏をつくらせた。  
 ・大宝律令により、天皇中心の政治のしくみが整ったが、伝染病など社会不安がおり、世の中が乱れた。  
 ・都が平城京・恭仁京・難波宮・紫香楽宮などに次々と移された。
- ⑥ **D**時代のメモ：・平治の乱で敗れた源頼朝は、b **伊豆に流された。**  
 ・紫式部などをむすめの教育係とし、4人のむすめを天皇のきさきとした人物が実権をにぎった。  
 ・平等院鳳凰堂は、世界文化遺産、国宝となっている。
- ⑦ 室町時代のメモ：・この時代を代表する建物として、金閣寺と銀閣寺がある。  
 ・応仁の乱より戦乱が続き、幕府の力がおとろえたために全国各地で戦国大名があらわれるようになった。
- ⑧ 弥生時代のメモ：・大陸から移り住んだ人々によって稲作などが伝えられた。また、貧富の差が生まれるようになった。  
 ・この時代を代表する登呂遺跡では、木製道具などが発見されて稲作の様子が明らかになった。

- 問1 ①のメモ中の **I** に入る語句を答えなさい。  
 問2 下線部 a に関連して、この人物を答えなさい。  
 問3 メモに書かれている内容をもとにして、①～⑧を時代の古い順に並びかえなさい。  
 問4 **A**～**D**時代のメモについて、続いた年数が少ないものから順に **A**～**D**を並びかえなさい。  
 問5 下線部 b に関連して、伊豆と同じ県にある建造物または遺跡の名前を①～⑧のメモの中から探して答えなさい。

2 次の会話文を読んで、あとの問いに答えなさい。

先生：今年の7月に新しい a お札が発行されましたね。  
 生徒：はい。新しいお札の肖像画には渋沢栄一・津田梅子・北里柴三郎の三人が描かれています。お札の肖像画は明治時代の人でなくてはいけないのですか？  
 先生：そのようなことはありません。国立造幣局のホームページを見てみましょう。いろいろな時代の人々が肖像画になっていますよ。

- |                  |                  |                            |                  |                   |                            |                           |                    |                 |
|------------------|------------------|----------------------------|------------------|-------------------|----------------------------|---------------------------|--------------------|-----------------|
| じんこうこうごう<br>神功皇后 | いたがきたいすけ<br>板垣退助 | すがわらのみちざね<br><b>b</b> 菅原道真 | わけのきよまる<br>和気清麻呂 | たけのうちのすくね<br>武内宿禰 | ふじわらのかまたり<br><b>c</b> 藤原鎌足 | しょうとくたいし<br><b>d</b> 聖徳太子 | やまとたけるのみこと<br>日本武尊 |                 |
| にのみやそんとく<br>二宮尊徳 | いわくらともみ<br>岩倉具視  | たかはしこれきよ<br>高橋是清           | いとうひろぶみ<br>伊藤博文  | ふくざわゆきち<br>福沢諭吉   | にとべいなぞう<br>新渡戸稲造           | なつめそうせき<br>夏目漱石           | のぐちひでよ<br>野口英世     | ひぐちいちよう<br>樋口一葉 |

生徒：たくさんいますね。そもそもなぜお金が使われるようになったのですか？

先生：次の資料を見てみましょう。何か分かるかもしれません。

著作権の関係上、現時点では掲載しておりません。

生徒：なるほど。今、私たちが使っているお金も昔の人々が便利に使えるように考えて作ったのですね。

先生：そうです。ですが、もうお金のデザインが変わることは無いかもしれません。

生徒：お金が無くなるんですか？

先生：無くなりはしません。お金がデジタル通貨に代わるかもしれません。

生徒：デジタル通貨ですか？

先生：デジタル通貨については次の授業で話し合しましょう。

問1 下線部 a に関連して、(1)、(2)の問いに答えなさい。

- (1) 国の予算や財政に関する仕事を行う役所を何というか答えなさい。
- (2) 国の予算を決める組織を何というか答えなさい。

問2 下線部 b の人物と関係の深いものを次のア～エから選び、記号で答えなさい。

ア 平城京      イ <sup>だざいふ</sup>大宰府      ウ <sup>とうだいじ</sup>東大寺      エ <sup>ちゅうそんじ</sup>中尊寺

問3 下線部 c の人物が、<sup>なかのおおえのおうじ</sup>中大兄皇子たちと行った政治の改革を何というか答えなさい。

問4 下線部 d の人物を説明をしている次の文章中の (      ) に入る適切な語句を答えなさい。

聖徳太子は天皇の子として産まれました。20歳の時に天皇の政治を助ける役職である ( ① ) になりました。そして、( ② ) を定め、<sup>いえがら</sup>家柄や出身地に関係なく、能力や功績で役人に取り立てました。また ( ③ ) をあつく<sup>しんこう</sup>信仰していた聖徳太子は、(③) の教えを人々の間に広めようとし、(③) のほかにも進んだ制度や文化を取り入れるため、中国の ( ④ ) へ使者を送りました。

問5 下線部 e に関連して、縄文時代に物々交換が行われていたものに<sup>こくようせき</sup>黒曜石があります。この黒曜石は何に使われていたか答えなさい。

問6 下線部 f に関連して、(1)、(2)の問いに答えなさい。

- (1) 次の地図記号から「田」を選び、ア～エの記号で答えなさい。



ア



イ

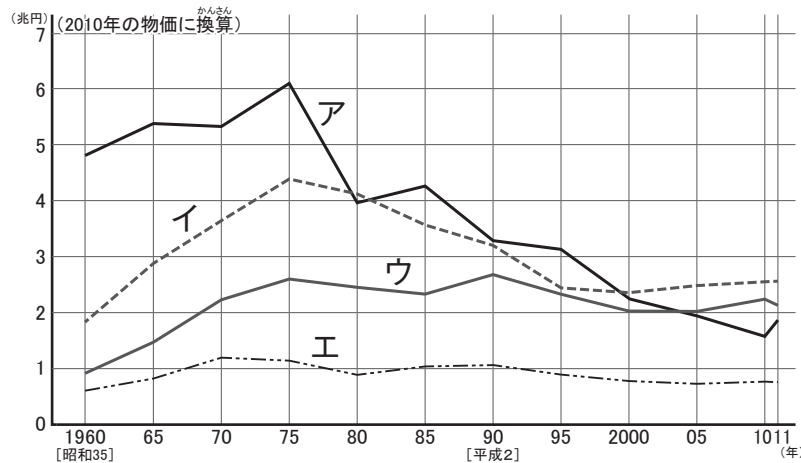


ウ



エ

(2) 次のグラフ中のア～エは、米・野菜・果物・畜産物の生産額を示しています。米にあてはまるものをア～エから選び、記号で答えなさい。



(農林水産省生産農業所得統計より作成)

問7 下線部gに関連して、現在日本は塩の多くを輸入に頼ってます。日本に塩を輸出している国の一つがオーストラリアです。オーストラリアの国旗を次のア～エから選び、記号で答えなさい。




ア



イ



ウ



エ

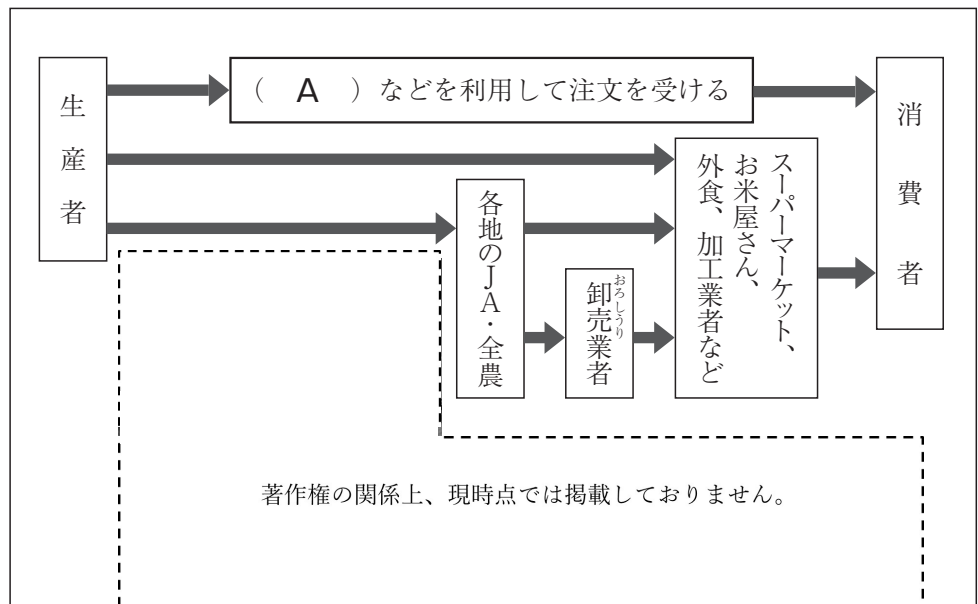
問8 下線部hがお金として用いられるようになった理由を簡単に説明しなさい。

3 次の資料を見て、あとの問いに答えなさい。

資料I



資料II 米が消費者のもとに届くまで



資料III キャベツについて

- キャベツの出荷量は群馬県、愛知県、千葉県が多い。
- キャベツは涼しい気候を好む。気温が5度くらいでもゆっくりと成長するが、よく育つのは約15度から20度で、夏の暑い時期にはよく育たない。
- キャベツは温室などを使わなくても、一年間を通じてどこかで栽培されている。
- 出荷の季節によって、春キャベツ（主に4～6月に出荷）、夏秋キャベツ（主に7～10月に出荷）、冬キャベツ（主に11～3月に出荷）とよばれる。
- 嬬恋村（群馬県）は、夏秋キャベツの出荷量が日本一。

資料Ⅳ キャベツの主要産地（出荷量上位10市町村）



資料Ⅴ 製造品出荷額等割合（2021年）

ア	478946億円	輸送用機械(52.7%)	電気機械(8.2)	鉄鋼(5.5)	生産用機械(3.0)	食料品(3.7)	その他(24.9)
イ	130968億円	石油・石炭製品(21.2%)	化学(18.8)	鉄鋼(14.5)	食料品(11.7)	金属製品(3.2)	その他(28.6)
ウ	83831億円	輸送用機械(31.6%)	食料品(10.3)	化学(8.7)	電気機械(6.1)	プラスチック製品(3.3)	その他(37.4)
エ	83654億円	石油・石炭製品(20.5%)	化学(15.2)	鉄鋼(13.8)	輸送用機械(9.1)	食料品(6.7)	その他(34.7)
山形県	30239億円	電子部品(23.3%)	食料品(11.2)	化学(9.7)	情報通信機器(9.0)	生産用機械(8.2)	その他(38.6)

(矢野恒太記念会「データでみる県勢 33版」より作成)

問1 資料Ⅰ中の平野アと山脈イの名前をそれぞれ答えなさい。

問2 次の文章は資料Ⅰ中の酒田市と太田市で吹く季節風について述べたものです。文章中の(あ)と(い)にあてはまる内容を、下のア～エからそれぞれ選び、記号で答えなさい。

酒田市では夏になると、南東季節風が山地をこえ(あ)風となって吹いてきます。この季節風は雨でぬれた葉をかわかし、稲の病気を防ぐはたらきをします。

太田市では冬になると、北西季節風が山地をこえ(い)風となって吹いてきます。この季節風は「赤城おろし」や「上州からっ風」などと呼ばれています。

ア 暖かくて湿った      イ 暖かくて乾いた      ウ 冷たくて湿った      エ 冷たくて乾いた

問3 資料Ⅱ中にある写真の施設は、集められた米を乾燥させたり保管したりするためのものです。この施設の名前を答えなさい。

問4 資料Ⅱ中の(A)に入る適当な語句を答えなさい。

問5 資料Ⅲと資料Ⅳを見て、次の文章中(あ)～(う)に入る語句の組み合わせとして、最も適当なものを下の表のア～クから選び、記号で答えなさい。

春キャベツと冬キャベツは主に太平洋側の(あ)地域から出荷されています。夏秋キャベツは主に、夏でも(い)で昼と夜の気温差も(う)高原地域や、岩手県や北海道などの寒冷地域から出荷されています。

	ア	イ	ウ	エ	オ	カ	キ	ク
あ	暖かい	暖かい	暖かい	暖かい	涼しい	涼しい	涼しい	涼しい
い	暖かく	暖かく	涼しく	涼しく	涼しく	涼しく	暖かく	暖かく
う	大きい	小さい	大きい	小さい	大きい	小さい	大きい	小さい

問6 資料Ⅳを見ると、春キャベツと冬キャベツの主要産地の分布には共通した特徴があることがわかります。この特徴を、気候や地形との関わり以外の点に着目し、「消費」という語句を使って、解答欄の書き出しに続けて簡単に答えなさい。

問7 山形県や群馬県では、道路や鉄道などの交通網の整備が進められるのに合わせて工業団地の建設が行われてきました。これによって両県では、臨海部とは性格の異なる、陸上輸送に適した工業が発達しています。資料Ⅴ中のア～エは、群馬県、千葉県、愛知県、岡山県のいずれかの県を示しています。群馬県に当てはまるものをア～エから選び、記号で答えなさい。



R07B401

# 社会解答用紙

(5枚のうちの5枚め)

受験番号

↓ここにシールを貼ってください↓

1

問1		問2	
問3	→	→	→
問4	→	→	問5

2

問1	(1)	(2)	問2	問3
問4	①	②	③	④
問5	問6	(1)	(2)	問7
問8				

3

問1	ア	平野	イ	山脈	問2	あ	い
問3				問4			問5
問6	春キャベツと冬キャベツの主要産地は、						
問7							